

XT - LEWENSORIËNTERING Graad 1

Naam: _____


Klas: _____

Vak: Padveiligheid

Datum: _____

Punte: 10

Vrae 1 tot 2 verwys na die volgende skets



Skets 1: 1IR32.GIF

Vraag 1: Waar/Onwaar [1]

Lewensoriëntering - LU 1 : AS 4

Luister goed, en kyk links, regs en weer links voordat jy 'n straat oorsteek.

WAAR

ONWAAR

Vraag 2: Veelvuldige Keuse [1]

Lewensoriëntering - LU 1 : AS 4


'n Versigtige fietsryer bly veilig as hy die padtekens ...

A gehoorsaam

B vermy

C omry

Vraag 3 verwys na die volgende skets



Skets 2: 1MC16.GIF


Vraag 3: Veelvuldige Keuse [1]

Lewensoriëntering - LU 1 : AS 4

Dis veiliger om in ... fiets te ry.

- A jou eie erf
- B die pad
- C 'n parkeerterrein

Vrae 4 tot 6 verwys na die volgende skets



Skets 3: 1MC67.GIF

Vraag 4: Waar/Onwaar [1]

Lewensoriëntering - LU 1 : AS 4

Wanneer jy in 'n straat fietsry, moet jy in dieselfde rigting as die verkeer ry.

WAAR

ONWAAR

Vraag 5: Cloze [1]

Lewensoriëntering - LU 1 : AS 4

Kyk na nommer 2.

Moet nooit in die (l) hardloop nie.

1	
---	--

pad

tuin

park

Vraag 6: Veelvuldige Keuse [1]

Lewensoriëntering - LU 1 : AS 4


Jy moet by 'n stopteken ...

A stop

B stadiger ry

C vinniger ry

Vrae 7 tot 9 verwys na die volgende skets



Skets 4: 1AIR34.GIF

Vraag 7: Socrates [1]

Lewensoriëntering - LU 1 : AS 4

Is nommer 4 veilig of onveilig?

Tik slegs o vir onveilig en v vir veilig.

Vraag 8: Socrates [1]

Lewensoriëntering - LU 1 : AS 4

Is nommer 3 veilig of onveilig?

Tik slegs o vir onveilig en v vir veilig.


Vraag 9: Socrates [1]

Lewensoriëntering - LU 1 : AS 4

Is nommer 2 veilig of onveilig?

Tik slegs o vir onveilig en v vir veilig.

Vraag 10 verwys na die volgende skets



Skets 5: 1MC37.GIF

Vraag 10: Cloze [1]

Lewensoriëntering - LU 1 : AS 4

Kinders moet op die (1) sitplek van 'n motor sit.

1	<input type="text"/>
---	----------------------

agterste

voorste

bestuurder se

