

XT - SYFERVAARDIGHEID Graad 1

Naam: _____


Klas: _____

Vak: Lees grafieke

Datum: _____

Punte: 10

Vrae 1 tot 3 verwys na die volgende skets



Skets 1: 1ARC19.GIF

Vraag 1: Waar/Onwaar [1]

Wiskunde - LU 1 : AS 4; LU 5 : AS 6

Die grootste getal kinders hou van swem.

WAAR

ONWAAR

Vraag 2: Waar/Onwaar [1]

Wiskunde - LU 1 : AS 4; LU 5 : AS 6

Die kleinste getal kinders hou van netbal.

WAAR

ONWAAR

Vraag 3: Waar/Onwaar [1]

Wiskunde - LU 1 : AS 1; LU 5 : AS 6

Twee kinders hou van rugby.

WAAR

ONWAAR

Vrae 4 tot 6 verwys na die volgende skets

Kyk hoe het ons ons geld spandeer.



Bennie

Hennie

ANSIE

Skets 2: 1AIR42.GIF

Vraag 4: Cloze [1]

Wiskunde - LU 5 : AS 6

Hennie het die helfte van sy geld op (1) spandeer.

1	
---	--

▸lekkers

▸skyfies

▸roomys

Vraag 5: Cloze [1]

Wiskunde - LU 5 : AS 6

Ansie het die minste geld op (1) spandeer.

1	
---	--

▸roomys

▸lekkers

▸skyfies

Vraag 6: Cloze [1]

Wiskunde - LU 5 : AS 6

Bennie het die meeste van sy geld op (1) spandeer.






1	
---	--

▸skyfies

▸lekkers

▸roomys

Vrae 7 tot 8 verwys na die volgende skets

Wat was in die rotspoel?	
	✓✓✓✓✓✓✓✓✓✓✓✓✓✓
	✓✓✓✓✓✓✓✓
	✓✓✓✓✓✓✓✓✓✓
	✓✓✓✓✓✓✓✓✓✓✓✓✓✓✓✓
	✓✓✓✓✓✓✓✓✓✓✓✓✓✓

Skets 3: 1MCA49.BMP

Vraag 7: Socrates [1]

Wiskunde - LU 1 : AS 1, AS 4; LU 5 : AS 6

Kyk na die groen ry.

Daar was ... seesterre in die rotspoel.

Vraag 8: Socrates [1]


Wiskunde - LU 1 : AS 1, AS 4; LU 5 : AS 6

Kyk na die blou ry.

Daar was ... krappe in die rotspoel.

Vraag 9 verwys na die volgende skets

Bennie en Hennie het vir een week papier ingesamel. Dit is hoeveel hulle ontvang het:



Skets 4: 1AIR23.GIF

Vraag 9: Veelvuldige Keuse [1]

Wiskunde - LU 5 : AS 6


Dinsdag en Donderdag het hulle altesaam ... kg ingesamel.

A 8

B 5

C 9

Vraag 10 verwys na die volgende skets



Skets 5: 1MCA21.GIF

... van my vriende hou van roomys.

A Agt

B Vier

C Tien