

XT - TEMAS Graad 1

Naam: _____

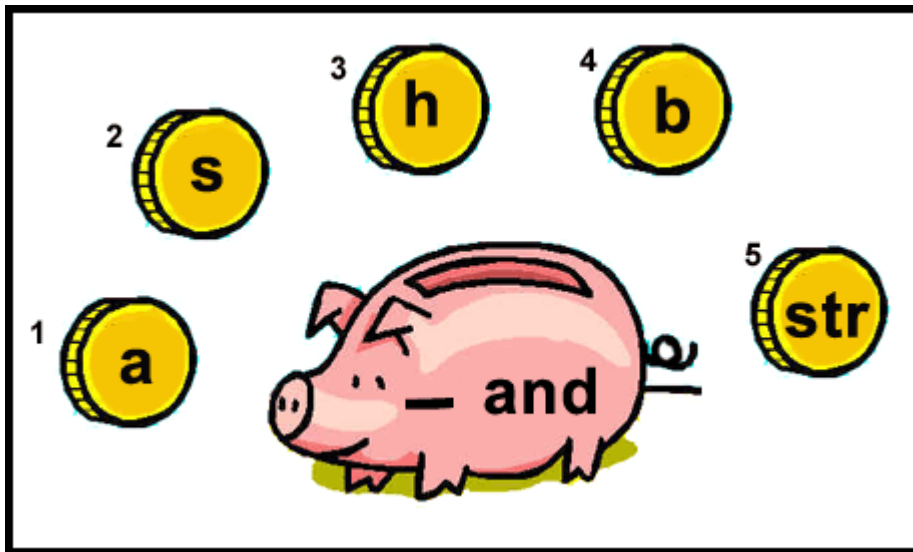
Klas: _____

Vak: Die ruimte en die aarde

Datum: _____

Punte: 10

Vraag 1 verwys na die volgende skets



Skets 1: 1MCA68.GIF

Vraag 1: Waar/Onwaar [1]

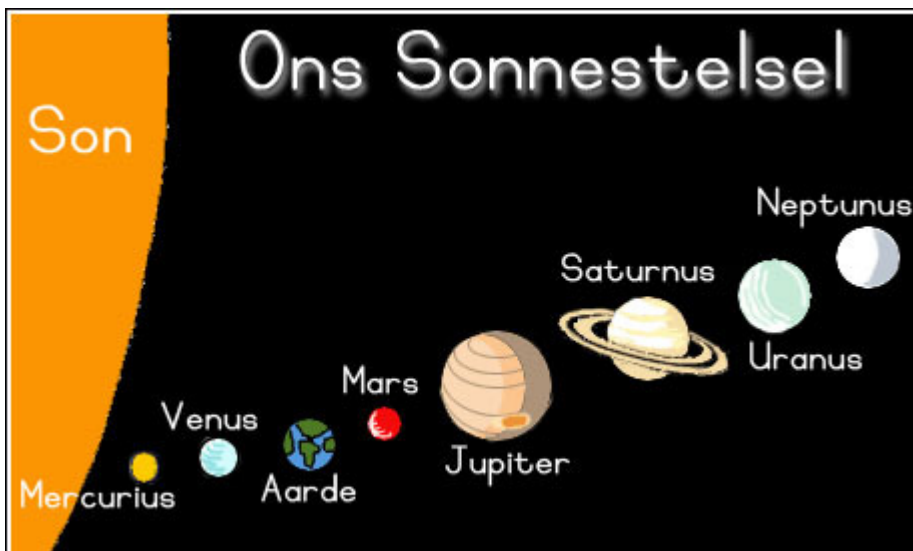
Huistaal - LU 3 : AS 4, AS 5; LU 4 : AS 6

Dit is donker in die hand, want die son het al gesak.

WAAR

ONWAAR

Vrae 2 tot 3 verwys na die volgende skets



Skets 2: Sonnestelsel

Vraag 2: Waar/Onwaar [1]

Huistaal - LU 4 : AS 6; LU 5 : AS 1, AS 3

Saturnus is die sesde planeet van die son af.

WAAR

ONWAAR

Uranus is die agste planeet van die son af.

 WAAR

 ONWAAR

Vrae 4 tot 5 verwys na die volgende skets



Skets 3: 1MC14.GIF

Vraag 4: Veelvuldige Keuse [1]

Wiskunde - LU 1 : AS 1, AS 10, AS 11

Die ruimtewese het 6 sterre.

Hoeveel moet hy bykry om 8 te hê?

 A

2

 B

4

 C

3

Die ruimtewese het 3 sterre.
Hoeveel moet hy bykry om 8 te hê?

- A 5
- B 6
- C 4

Vrae 6 tot 8 verwys na die volgende skets



Skets 4: 1RC43.GIF

Vraag 6: Socrates [1]

Wiskunde - LU 1 : AS 1, AS 10

Daar moet 6 reëndruppels wees.

$$2 + \dots = 6$$

Vraag 7: Socrates [1]

Wiskunde - LU 1 : AS 1, AS 10

Daar moet 6 reëndruppels wees.

$$4 + \dots = 6$$

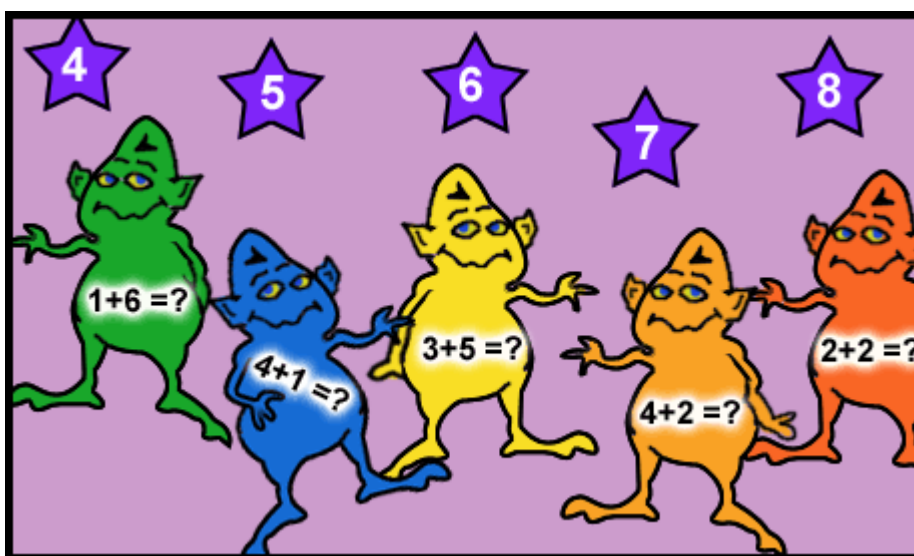
Daar moet 6 reëndruppels wees.

$$3 + (1) = 6$$

| | |
|---|--|
| 1 | |
|---|--|

- ▶
2
▶
3
▶
4
- ▶
5

Vraag 9 verwys na die volgende skets



Skets 5: 1MC13.GIF


Pas die ster by die ruimteman:

$$4 + 2 = (1)$$

| | |
|---|--|
| 1 | |
|---|--|

- ▶
6
▶
7
▶
8

Vraag 10 verwys na die volgende skets



Skets 6: 2NV44.GIF

Vraag 10: Veelvuldige Keuse [1]

Aardrykskunde - LU 3 : AS 2

Partykeer kom daar vuil water in riviere en dit ... die vars water.

- A** besoedel
- B** verskoon
- C** help

10 Vrae, 5 Bladsye