

XT - TEMAS Graad 2

Naam: _____

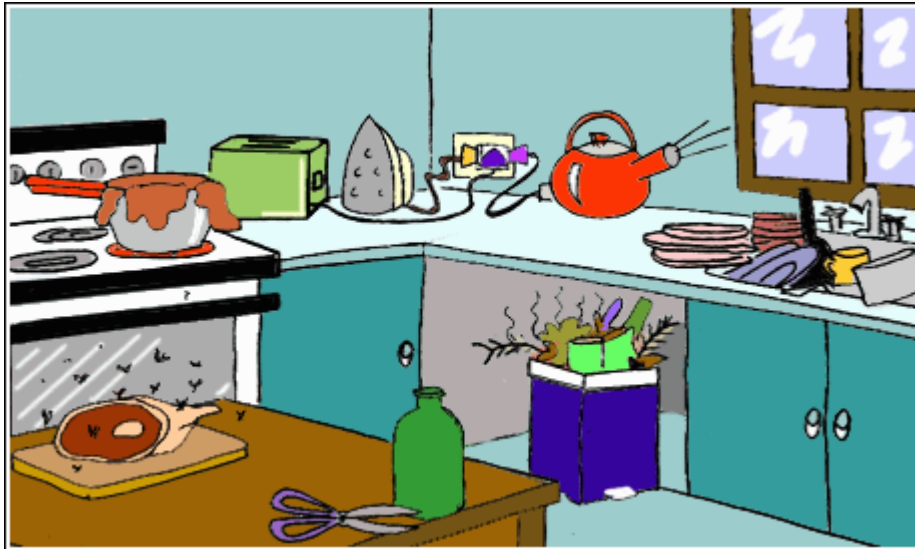
Klas: _____

Vak: In ons tuin

Datum: _____

Punte: 10

Vraag 1 verwys na die volgende skets



Skets 1: 2NV15.GIF

Vraag 1: Waar/Onwaar [1]

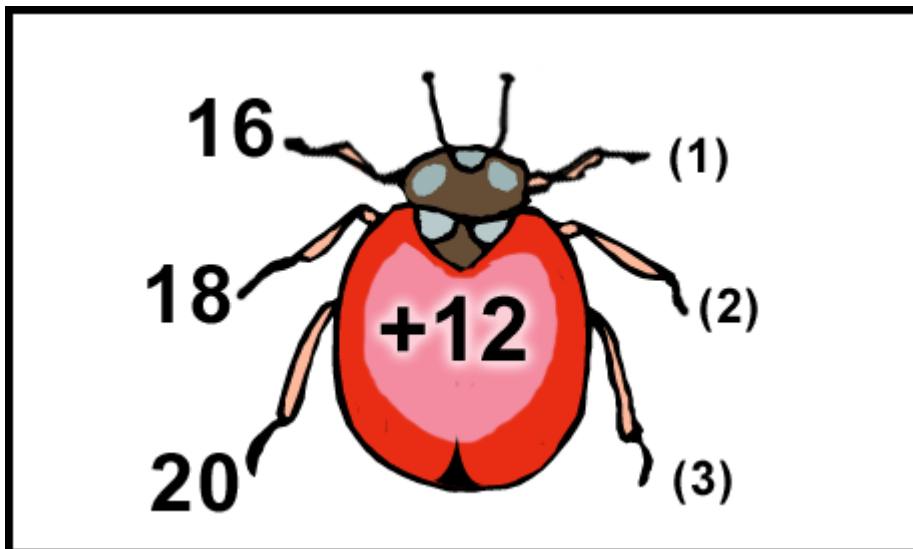
Lewensoriëntering - LU 1 : AS 3

Vlieë is insekte wat siektes oordra.

WAAR

ONWAAR

Vraag 2 verwys na die volgende skets



Skets 2: 02MC23.GIF

Vraag 2: Waar/Onwaar [1]

Wiskunde - LU 1 : AS 4, AS 11

$18 + 12 = 30$

WAAR

ONWAAR

Vrae 3 tot 4 verwys na die volgende skets



Skets 3: 1IR1.GIF

Vraag 3: Veelvuldige Keuse [1]

Huistaal - LU 5 : AS 1; LU 6 : AS 1, AS 3

Die pienk skoeklapper is ... aan die rooi blom.

- A naby
- B nader
- C naaste

Vraag 4: Socrates [1]


Huistaal - LU 5 : AS 1; LU 6 : AS 1, AS 3

Die groen blom is ...

Die wit blom is langer.

Die rooi blom is die langste.

Vraag 5 verwys na die volgende skets



Skets 4: 3MC08.GIF

Vraag 5: Veelvuldige Keuse [1]

Huistaal - LU 5 : AS 1; LU 6 : AS 1, AS 3


Sonneblom 1 is lank.

Sonneblom 2 is ...

Sonneblom 3 is die langste.

- A** langer
- B** baie lank
- C** langste

Vraag 6 verwys na die volgende skets



Skets 5: 2ANV27.GIF

Vraag 6: Veelvuldige Keuse [1]

Huistaal - LU 6 : AS 1, AS 2

'n Antoniem vir KOUDSTE is ...

- A ysigste
- B koelste
- C warmste

Vraag 7 verwys na die volgende skets



Skets 6: 2ANV11.GIF

Vraag 7: Socrates [1]

Huistaal - LU 3 : AS 5; LU 5 : AS 2

Kyk na die prentjie.

Die naam van 'n voorwerp rym met DROOM.

Die voorwerp is 'n ...

Vraag 8 verwys na die volgende skets




Skets 7: 2AVZ27.GIF

Vraag 8: Socrates [1]

Wiskunde - LU 1 : AS 3, AS 11

Die voëls het altesaam ... vlerke.

Vraag 9 verwys na die volgende skets



Skets 8: 2MCA26.GIF

Die voëltjie sing 'n hoë (l).

1	
---	--

▸noot

▸poot

▸groot

Vraag 10 verwys na die volgende skets



Skets 9: 02MCA08.GIF

Molle vreet graag (l).

1	
---	--

▸erdwurms

▸blare

▸plankton