

XT - TEMAS Graad 3

Naam: _____

Klas: _____

Vak: By ons huis

Datum: _____

Punte: 10

Vraag 1 verwys na die volgende skets

Kan Miraj 'n hondjie bekostig?



Koste van 'n hondjie	304,00
Lisensiegeld	20,00
Hondehok	110,00
Halsband	15,00
Kos- en waterbakke	10,00
Inspuitings	80,00
Kos per maand	55,00

Skets 1: 3DHA11.GIF

Vraag 1: Waar/Onwaar [1]

Wiskunde - LU 1 : AS 8, AS 10

Dit sal R320,00 kos om 3 hondehokke te koop.

WAAR

ONWAAR

Vraag 2 verwys na die volgende skets

Ouma Martie se inkopies



Skets 2: 3MCA33.GIF

Vraag 2: Waar/Onwaar [1]

Wiskunde - LU 4 : AS 8

Die hondebeskuitjies weeg 1 000 gram.

WAAR

ONWAAR

Vrae 3 tot 4 verwys na die volgende skets



Skets 3: 3dh39a

Vraag 3: Waar/Onwaar [1]

Lewensoriëntering - LU 2 : AS 4 / Huistaal - LU 3 : AS 1

Wanneer 'n Zoeloe-familie 'n maaltyd saam geniet, sit die manne aan die regterkant van die hut en die vroue sit oorkant hulle.

WAAR

ONWAAR

Vraag 4: Veelvuldige Keuse [1]

Wiskunde - LU 1 : AS 11, AS 12

Hoeveel lobola het die Zoeloe-hoofman vir albei sy vroue betaal?

A 33 koeie

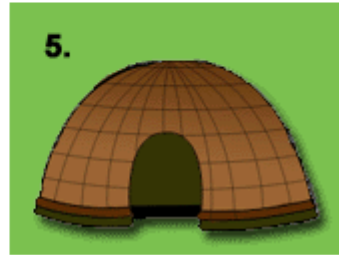

B 20 koeie

C 22 koeie

Vrae 5 tot 6 verwys na die volgende skets



TRADISIONELE WONINGS



Skets 4: 3MCA62.GIF

Vraag 5: Veelvuldige Keuse [1]

Lewensoriëntering - LU 2 : AS 4 / Huistaal - LU 3 : AS 1

Bennie en Hennie woon in huis ...

A 1

B 2

C 3

Vraag 6: Cloze [1]

Lewensoriëntering - LU 2 : AS 4 / Huistaal - LU 3 : AS 1

Pas die huis by die naam.

Huis 3 is 'n (I)-hut.

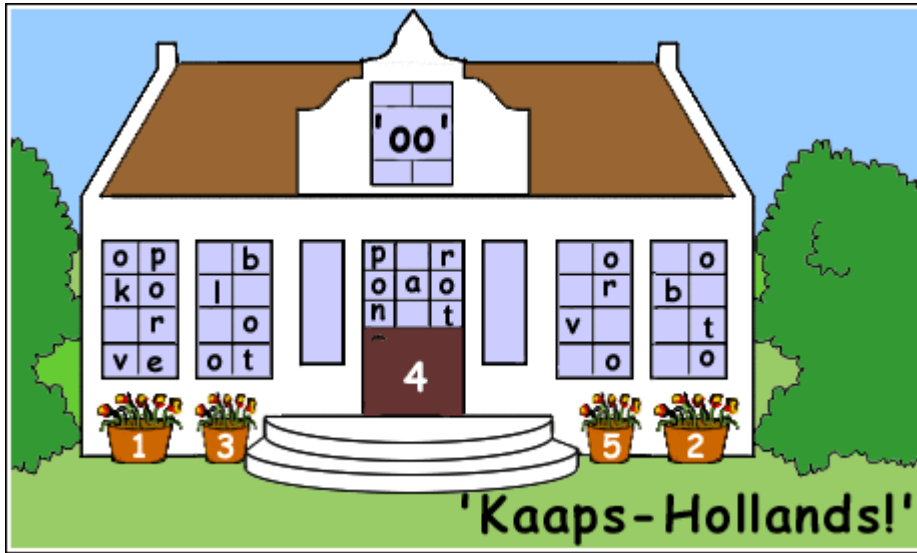
1

►Ndebele

►Bedoeïene

►San

Vrae 7 tot 8 verwys na die volgende skets



Skets 5: 3DH31A.GIF

Vraag 7: Socrates [1]

Huistaal - LU 3 : AS 1, AS 5; LU 6 : AS 1

Kyk na deur 4.

Die ... van die Kaaps-Hollandse gewel is baie mooi.

Vraag 8: Socrates [1]

Huistaal - LU 3 : AS 1, AS 5; LU 6 : AS 1

Venster 5 is jou wenk.

'n Woonhuis wat in 1832 gebou is, is ... 1898 klaargemaak.

Vraag 9 verwys na die volgende skets



Skets 6: 3MC34.GIF

Vraag 9: Cloze [1]

Huistaal - LU 3 : AS 1, AS 6; LU 5 : AS 1

LYS A: rys; konfyt; tuna; suiker; meel

LYS B: tuna; konfyt; meel; suiker; rys

LYS C: tuna; konfyt; rys; meel; suiker

Lys (I) is van die ligste na die swaarste gerangskik.

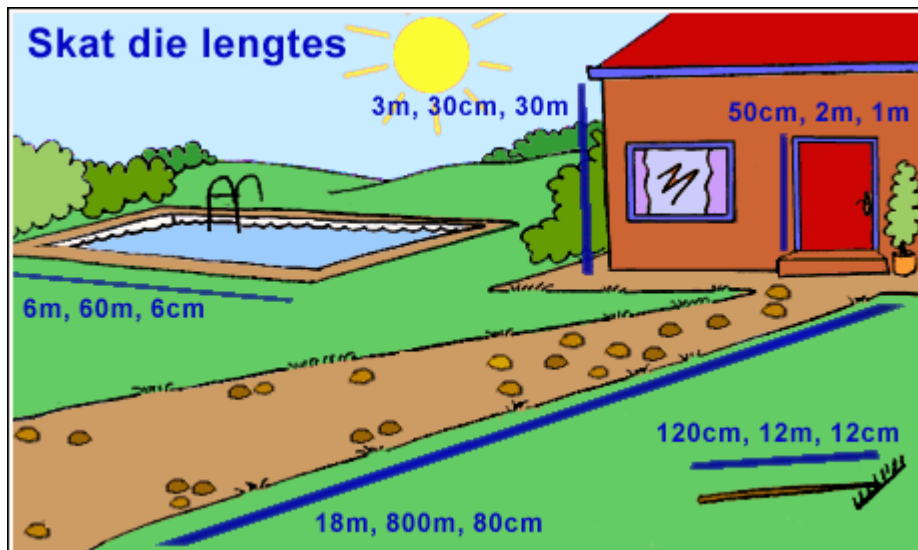
1	
---	--

▶A

▶B

▶C

Vraag 10 verwys na die volgende skets



Skets 7: 3MCA31.GIF

Skat die hoogte:

Die deur is (l) hoog.

1	
---	--

▶ 50 cm

▶ 2 m

▶ 1 m