

# XT - TEMAS Graad 3

Naam: \_\_\_\_\_

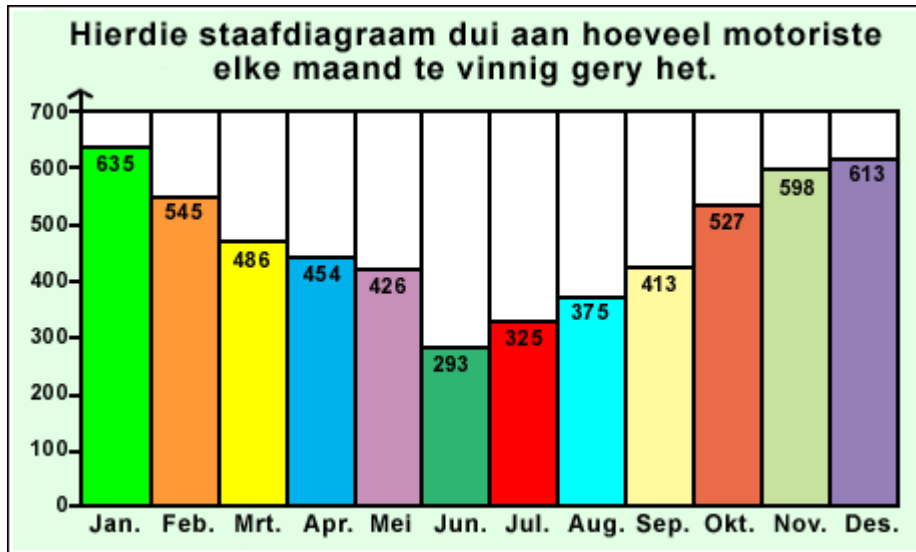
Klas: \_\_\_\_\_

Vak: Uit en tuis

Datum: \_\_\_\_\_

Punte: 10

Vraag 1 verwys na die volgende skets



Skets 1: 3HP21A.GIF

Vraag 1: Waar/Onwaar [1]

Wiskunde - LU 1 : AS 10; LU 4 : AS 8

'n Motor ry teen 129 km/h.

As 5 motors teen hierdie snelheid ry, sal hulle altesame 625 km/h ry.

WAAR

ONWAAR

Vraag 2 verwys na die volgende skets



Skets 2: 3HP25A.GIF

Vraag 2: Waar/Onwaar [1]

Wiskunde - LU 1 : AS 10; LU 4 : AS 8

Kyk hoeveel vliegtuigbrandstof gebruik 'n vliegtuig om van Kaapstad na Johannesburg te vlieg.

50 vliegtuie sal 600 ton brandstof nodig hê.

WAAR

ONWAAR

Vraag 3 verwys na die volgende skets



*Skets 3: 3MCA14.GIF*

Vraag 3: Veelvuldige Keuse [1]

Huistaal - LU 3 : AS 1; LU 5 : AS 3

Ons was op 'n uitstappie na die ...

Ons het visse, dolfyne en krappe gesien.

- A akwarium
- B ewenaar
- C loodgieter

Vrae 4 tot 5 verwys na die volgende skets



Skets 4: 3HP26A.GIF

**Vraag 4: Veelvuldige Keuse [1]**

Huistaal - LU 3 : AS 1; LU 5 : AS 3; LU 6 : AS 1

Kaptein Temba wil graag 'n trui vir haar broer brei.  
Watter hawe sal sy moet besoek?

- A Port Elizabeth
- B Durban
- C Kaapstad

**Vraag 5: Veelvuldige Keuse [1]**

Huistaal - LU 3 : AS 1; LU 5 : AS 3; LU 6 : AS 1

Kaptein Siphon wil 'n mooi stoel vir sy suster maak.  
Watter hawe sal hy moet besoek?

- A Port Elizabeth
- B Durban
- C Richardsbaai

Vrae 6 tot 7 verwys na die volgende skets



Skets 5: 3hp23a

**Vraag 6: Socrates [1]**

Huistaal - LU 3 : AS 1, AS 5; LU 6 : AS 2

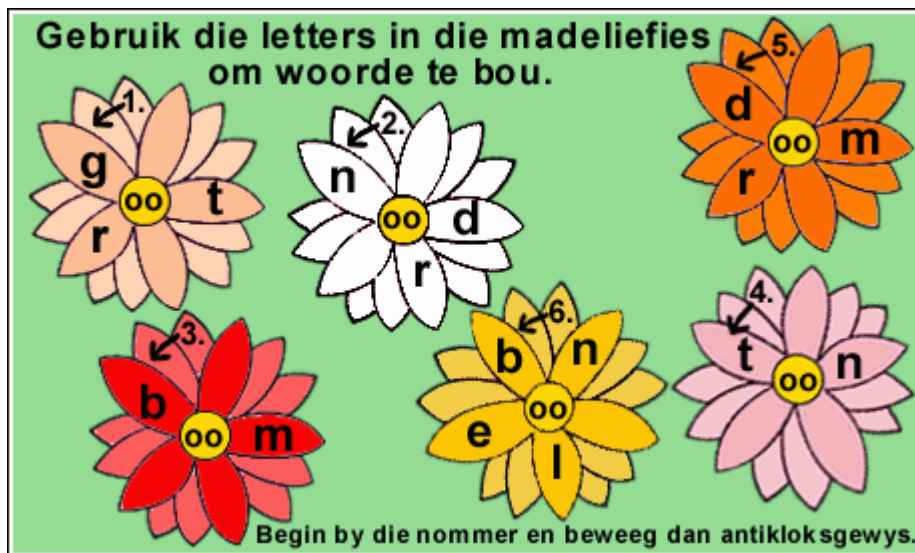
Treinwa 1 vervoer vyf mense wat op pad is na Kaapstad.  
Hulle gaan nou ... in die lekker tee en toebroodjies.

**Vraag 7: Socrates [1]**

Huistaal - LU 3 : AS 1, AS 5; LU 6 : AS 1

Treinwa 3 vervoer 'n merrie en haar vulletjie.  
Hulle is aan 'n plaas naby Kaapstad verkoop.  
Die kondukteur gee vir hulle hooi om te ...

Vraag 8 verwys na die volgende skets



Skets 6: 3DH26A.GIF

**Vraag 8: Cloze [1]**

Huistaal - LU 3 : AS 1, AS 5; LU 6 : AS 1

'n Antoniem is 'n woord wat die teenoorgestelde betekenis het. Vul die antoniem in wat weggelaat is. Madeliefie nommer 2 sal jou help. Al waai die wind (l) of SUID, moet ons elke druppel water oppas.


1	
---	--

▸noord

▸groot

▸droom

Vraag 9 verwys na die volgende skets



Skets 7: 3DH19A.GIF

Vraag 9: Cloze [1]

As die boer al sy Ayrshire-koeie, met hul bruin vlekke op hul wit pelse, verkoop, sal hy (I) koeie in sy trop oorhê.

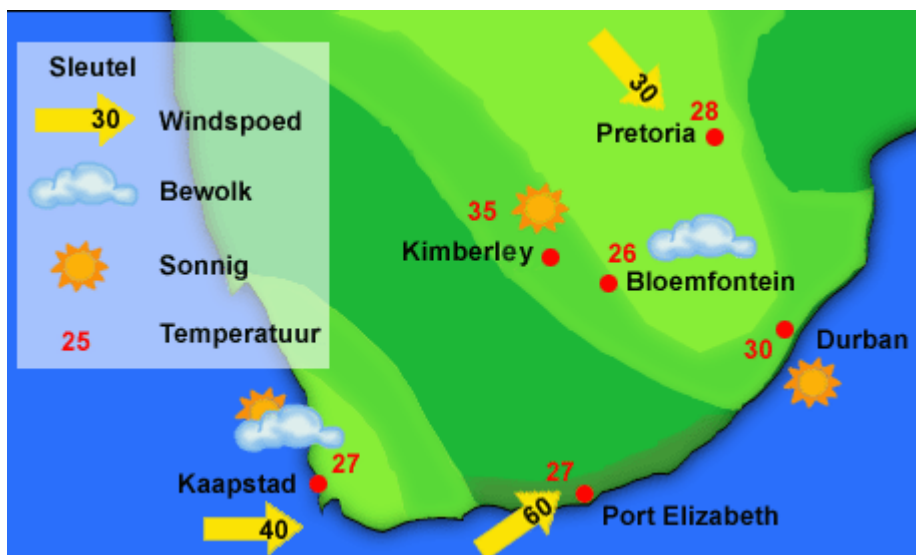
1	
---	--

►136

►163

►153

Vraag 10 verwys na die volgende skets



Skets 8: 3mca24

Vraag 10: Cloze [1]

Kaapstad lê in 'n (I)-reënstreek.

1	
---	--

►winter

►somer

►lente